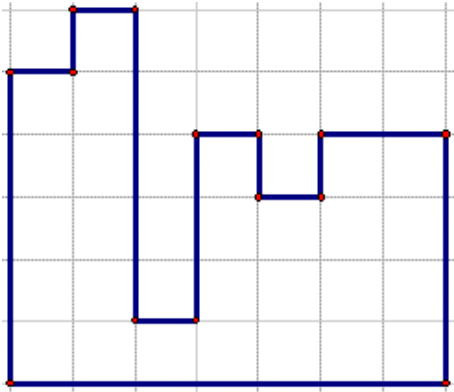


2.Колико је једнаких квадратића потребно да би се сложила фигура са слике?

Нацртај фигуру у свесци која:

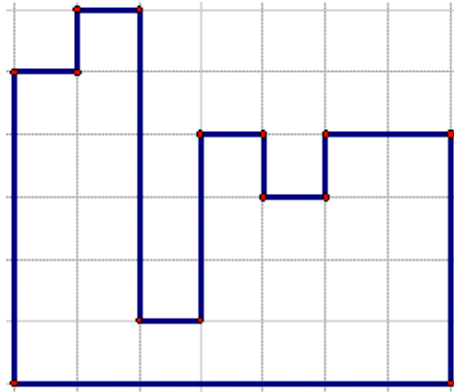
- а) има 7 квадратића више;
- б) има 5 квадратића мање;



2.Колико је једнаких квадратића потребно да би се сложила фигура са слике?

Нацртај фигуру у свесци која:

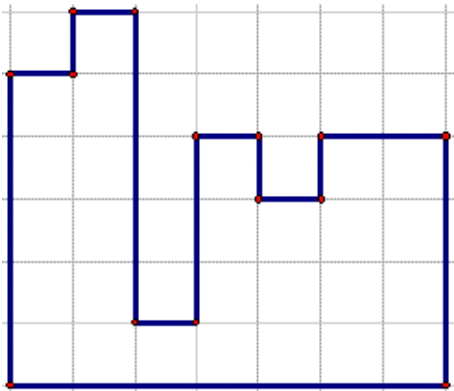
- а) има 7 квадратића више;
- б) има 5 квадратића мање;



2.Колико је једнаких квадратића потребно да би се сложила фигура са слике?

Нацртај фигуру у свесци која:

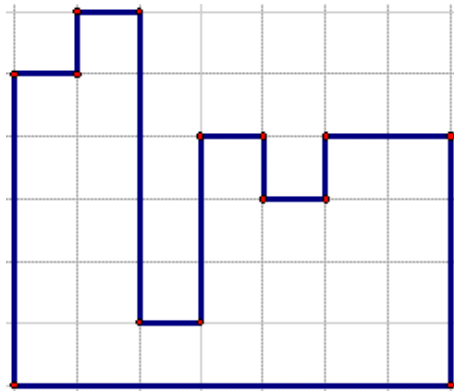
- а) има 7 квадратића више;
- б) има 5 квадратића мање;



2.Колико је једнаких квадратића потребно да би се сложила фигура са слике?

Нацртај фигуру у свесци која:

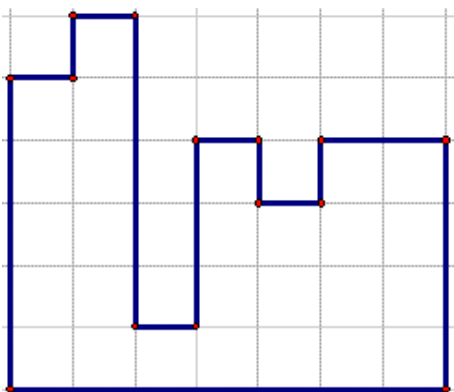
- а) има 7 квадратића више;
- б) има 5 квадратића мање;



2.Колико је једнаких квадратића потребно да би се сложила фигура са слике?

Нацртај фигуру у свесци која:

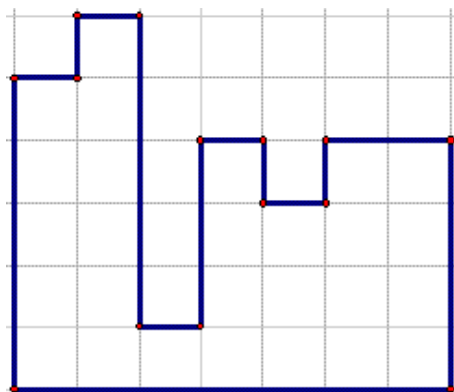
- а) има 7 квадратића више;
- б) има 5 квадратића мање;



2.Колико је једнаких квадратића потребно да би се сложила фигура са слике?

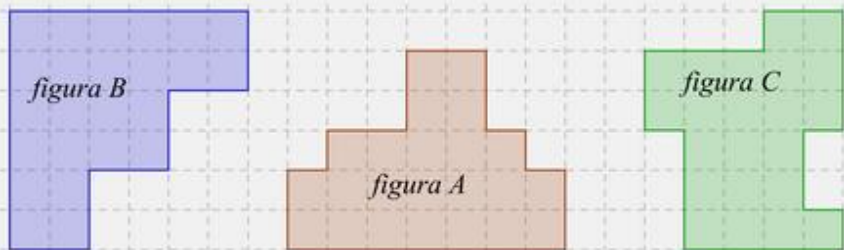
Нацртај фигуру у свесци која:

- а) има 7 квадратића више;
- б) има 5 квадратића мање;



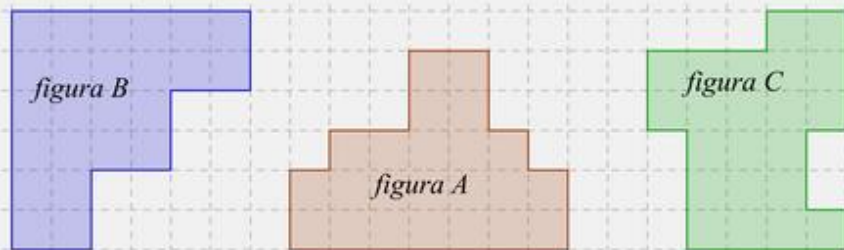
Задаци:

1. Колико је једнаких квадратића потребно да би се од њих сложила свака од фигура на датој слици. Упореди површи ових фигура.



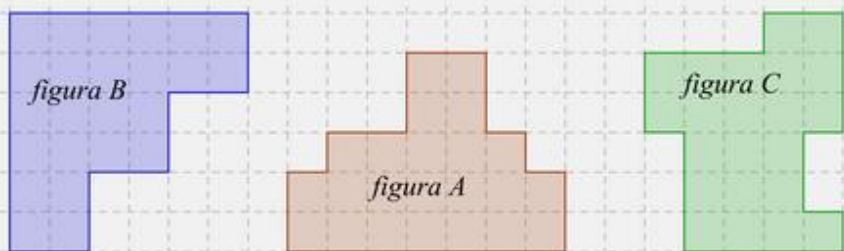
Задаци:

1. Колико је једнаких квадратића потребно да би се од њих сложила свака од фигура на датој слици. Упореди површи ових фигура.



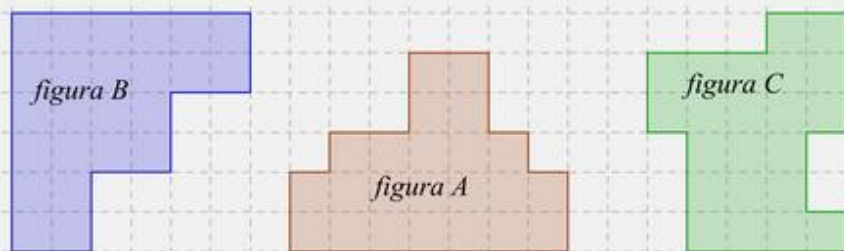
Задаци:

1. Колико је једнаких квадратића потребно да би се од њих сложила свака од фигура на датој слици. Упореди површи ових фигура.



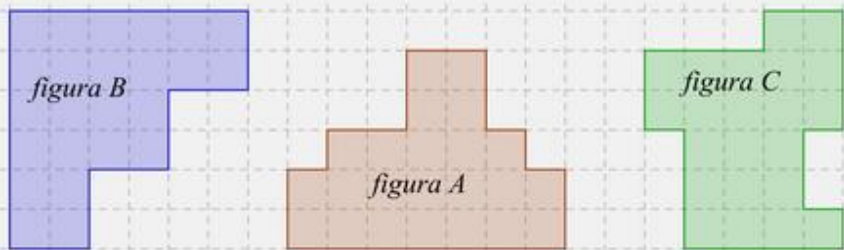
Задаци:

1. Колико је једнаких квадратића потребно да би се од њих сложила свака од фигура на датој слици. Упореди површи ових фигура.



Задаци:

1. Колико је једнаких квадратића потребно да би се од њих сложила свака од фигура на датој слици. Упореди површи ових фигура.



Задаци:

1. Колико је једнаких квадратића потребно да би се од њих сложила свака од фигура на датој слици. Упореди површи ових фигура.

